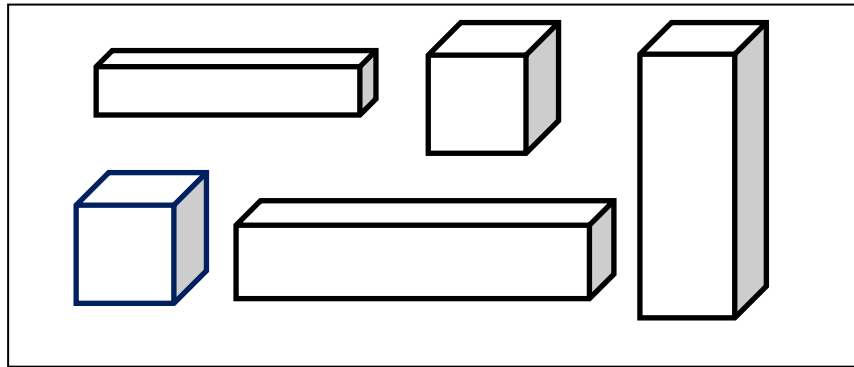


TỔ KHỐI 1**MA TRẬN ĐỀ KIỂM TRA MÔN TOÁN HỌC KỶ I
KHỐI 1 - Năm học: 2023 – 2024**

Mạch KT - KN	Số câu, số điểm, thành tố năng lực	Mức 1		Mức 2		Mức 3		Tổng	
		TN	TL	TN	TL	TN	TL	TN	TL
Số học (Nhận biết cấu tạo số và các phép tính trong phạm vi 10. So sánh số trong phạm vi 10. Viết phép tính với hình vẽ.	Số câu	3	1,0	1,0	2		2	4	4
	Số điểm	3,0	1,0	1,0	2,0		2,0	4,0	4,0
	Câu số	1;2,3,5	7,8	4			9;10	1;2;3,4,5	7;8,9;10
	Thành tố năng lực	-NLGQVĐTH -NLTD&LLTH	-NLGQVĐTH	-NLTD&LLTH	-NLTD&LLTH		-NLMHHTH -NLTD&LLTH		
Yếu tố hình học (Nhận dạng khối hộp lập phương, khối hộp chữ nhật	Số câu			1				1	
	Số điểm			1,0				1	
	Câu số			6				6	
	Thành tố năng lực	-NLGQVĐTH			-NLMHHTH				
Tổng cộng	Số câu	5		3		2		6	4
	Số điểm	5,0		3,0		2,0		6,0	4,0



a) Trong hình trên có bao nhiêu khối lập phương?

- A.4 B.5 C.2 D. 3

b) Có bao nhiêu khối hộp chữ nhật ?

- A. 3 B.5 C.2 D. 1

II. PHẦN TỰ LUẬN:

Câu 7 :(M1- 1điểm) Tính :

$$4 + 5 = \qquad 10 - 3 =$$

$$7 + 3 = \qquad 9 - 4 =$$

Câu 8 : (M1- 1 điểm) Điền dấu <, >, = thích hợp vào chỗ chấm:

$$8 \dots 6 - 4$$

$$4 \dots 4 + 5$$

$$7 \dots 9 + 1$$


$$5 \dots 10 - 5$$

Câu 9: (M3 -1 điểm). Điền số thích hợp vào ô trống:

	-	4	=	6
--	---	---	---	---

6	+		=	10
---	---	--	---	----

Câu 10: (M3- 1 điểm) Viết 2 Phép tính thích hợp với hình vẽ:



--	--	--	--	--

--	--	--	--	--

ĐÁP ÁN VÀ CÁCH GHI ĐIỂM

I. PHẦN TRẮC NGHIỆM: (Mỗi câu đúng 1 điểm)

Câu	1	2	3a	3b	4a	4b	6a	6b
Đáp án	C	B	C	D	B	C	C	A

Câu 5: (M1- 1điểm) Đúng ghi **Đ** sai ghi **S**

a) $6 - 3 + 5 = 8$

Đ

b) $10 - 4 + 3 = 9$

Đ

$8 - 4 + 5 = 4$

S

$4 + 5 - 3 = 4$

S

II. PHẦN TỰ LUẬN:

Câu 7 : Tính : (M1 – 1 điểm)

$$4 + 5 = 9$$

$$10 - 3 = 7$$

$$7 + 3 = 10$$

$$9 - 4 = 5$$

Câu 8 : (M2- 1 điểm) Điền dấu $<$, $>$, $=$ thích hợp vào chỗ chấm:

$$8 > 6 - 4$$

$$4 < 4 + 5$$

$$7 < 9 + 1$$


$$5 = 10 - 5$$

Câu 9: (M3 -1 điểm). Điền số thích hợp vào ô trống:

10	-	4	=	6
----	---	---	---	---

6	+	4	=	10
---	---	---	---	----

Câu 10: (M3- 1 điểm) Viết 2 Phép tính thích hợp với 2 hình vẽ.



4	+	1	=	5
---	---	---	---	---

5	-	4	=	1
---	---	---	---	---

CM duyệt

Bình Thuận, ngày 23 tháng 12 năm 2023
KHỐI TRƯỞNG

Nguyễn Hữu Trãi

Đào Thị Hải

