

**MA TRẬN ĐỀ KIỂM TRA MÔN TOÁN CUỐI NĂM**  
**KHỐI 1 - Năm học: 2023 – 2024**

Mạch KT - KN	ST T	Yêu cầu cần đạt	Số câu, số điểm	Mức 1 (50%)		Mức 2 (30%)		Mức 3 (20%)		Tổng		
				TN	TL	TN	TL	TN	TL	T N	TL	
Số và phép tính	1	Các số và cộng trừ không nhớ trong phạm vi 100 <b>YCCĐ:</b> Nhận biết, so sánh, thực hiện được cộng, trừ không nhớ được các số trong phạm vi 100 <b>NL:</b> Tư duy và lập luận toán học; GQVĐ toán học.	Số câu	3	1				2			
			Câu số	1,4	7				9,10			
			Số điểm	3	1				2			
	2	Đại lượng. <b>YCCĐ:</b> : Nhận biết được đọc độ dài cm. <b>NL:</b> Sử dụng công cụ và phương tiện toán học; GQVD toán học Hình học: Nhận biết hình hộp chữ nhật, hình hộp lập phương.	Số câu	2								
			Câu số	2,5								
			Số điểm	2								
	3	Thời gian. Đồng hồ, các ngày trong tuần. <b>YCCĐ:</b> Viết được giờ đúng trên đồng hồ của tranh cho sẵn; Biết các ngày trong tuần. <b>NL:</b> ; GQVĐ toán học, mô hình hóa toán học, tư duy toán học	Số câu	1			1					
			Câu số	3			8					
			Số điểm	1			1					
	4	Vận dụng Tìm phép tính nêu câu trả lời bài toán <b>YCCĐ:</b> Viết được phép tính theo yêu cầu của bài toán. <b>NL:</b> Tư duy toán học., GQVĐ toán học	Số câu				1					
			Câu số				6					
			Số điểm				1					
	<b>Tổng</b>			Số câu	5	1		2		2		
				Số điểm	5,0	1,0		2,0		2,0	6,0	4,0
					5,0		3,0		2,0			

## ĐỀ KIỂM TRA CUỐI NĂM – NĂM HỌC 2023 - 2024

### I. PHẦN TRẮC NGHIỆM

Hãy khoanh vào chữ cái đặt trước đáp án đúng:

**Câu 1.** (M1 – 1 điểm)

a. Số nào lớn nhất?

A. 32

B. 76

C. 95

D. 59

b. Số nào bé nhất?

A. 22

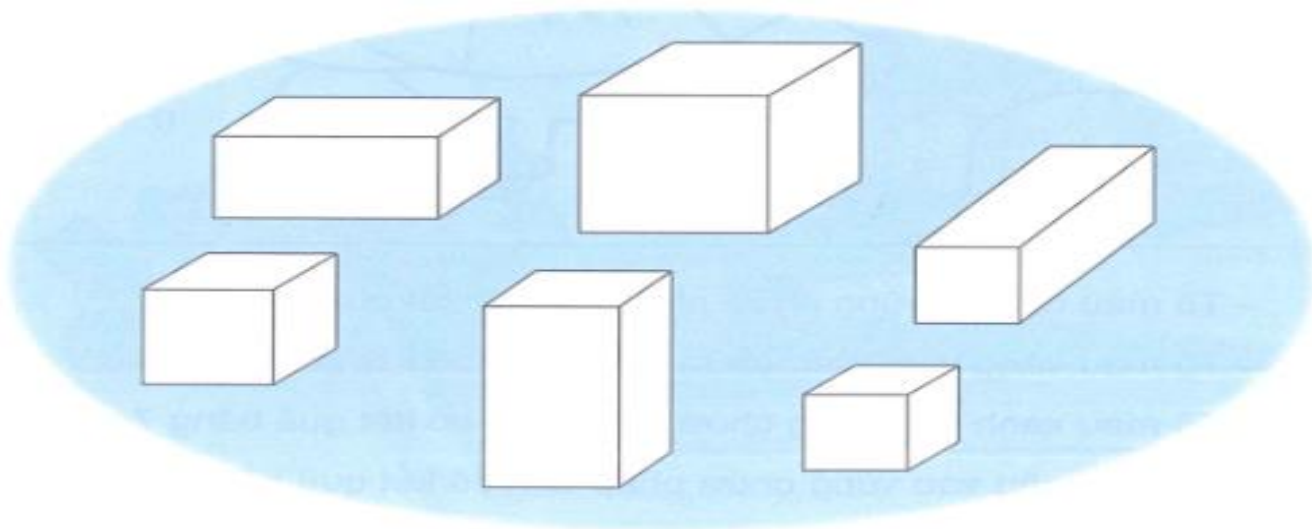
B. 12

C. 65

D. 45

**Câu 2:** (M1 – 1 điểm) khoanh vào chữ cái đặt trước đáp án đúng.

Có bao nhiêu hình hộp lập phương?



A. 4

B. 6

C. 3

D

**Câu 3 :** ( M1 – điểm) khoanh vào chữ cái đồng hồ nào chỉ 3 giờ?

Đồng hồ 1



Đồng hồ 2



Đồng hồ 3



Đồng hồ 4



A. Đồng hồ 2

B. Đồng hồ 1

C. Đồng hồ 3

D. Đồng hồ 4

**Câu 4:** (M2- 1điểm) khoanh vào chữ cái đặt trước đáp án đúng.

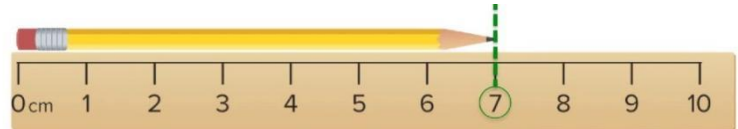
Bố đi công tác 1 tuần lễ và 4 ngày. Hỏi bố đi công tác tất cả bao nhiêu ngày?

- A. 7 ngày                      B. 9 ngày                      C. 10 ngày                      D. 11 ngày

**Câu 5:**(1điểm - M1) khoanh vào chữ cái đặt trước đáp án đúng

Chiếc bút chì hình bên dài:

- A . 7cm                      C . 9cm  
B . 8cm                      D . 10 cm



**Câu 6:**( M2- 1 điểm) Viết phép tính thích hợp và trả lời câu hỏi:

Nhà Lan nuôi 34 con vịt và gà, trong đó có 22 con con gà. Hỏi nhà Lan nuôi bao nhiêu con vịt?

Phép tính  ....  =

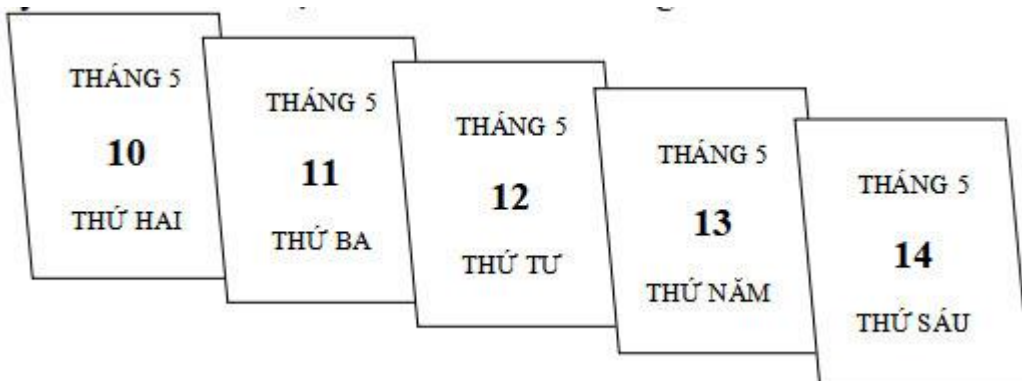
Trả lời :.....  con vịt

## II. PHẦN TỰ LUẬN

**Câu 7:**(M 1) (1điểm) Đặt tính rồi tính.

99 - 3	89 - 56	5 + 33	43 + 34

**Câu 8:** (M2- 1 điểm) Em hãy nhìn vào các tờ lịch và điền vào chỗ trống:



Nếu hôm nay là thứ năm ngày 13 tháng 5 thì:

Ngày hôm qua là thứ .....ngày ,,,,,,,,tháng .....

Ngày mai là thứ .....ngày .....tháng.....

**Câu 9:**(M3 - 1 điểm) Điền dấu <, >, = vào ô trống:

$$32 + 12 \quad \square \quad 13 + 24 \qquad 3 + 12 \quad \square \quad 39 - 14$$

$$99 - 2 \quad \square \quad 44 + 43 \qquad 78 - 34 \quad \square \quad 23 + 21$$

**Câu 10:** ( M3 – 1 điểm) Viết số thích hợp vào chỗ chấm:

Tuổi của ông là số lớn nhất có 2 chữ số, bà ít hơn ông 3 tuổi.

Tuổi ông là ..... tuổi.

Tuổi bà là: ..... tuổi

## ĐÁP ÁN VÀ THANG ĐIỂM

### I. PHẦN TRẮC NGHIỆM

Từ câu 1 đến câu 5. Mỗi câu đúng 1 điểm :

Câu	1	2	3	4	5	
Đáp án	A	C	C	A	D	A

### II. PHẦN TỰ LUẬN

**Câu 6:**( M2- 1 điểm) Viết phép tính thích hợp và trả lời câu hỏi:

Nhà Lan nuôi 34 con vịt và gà, trong đó có 22 con con gà. Hỏi nhà Lan nuôi bao nhiêu con vịt?

Phép tính  $\square$  34  $-$   $\square$  22  $=$   $\square$  12

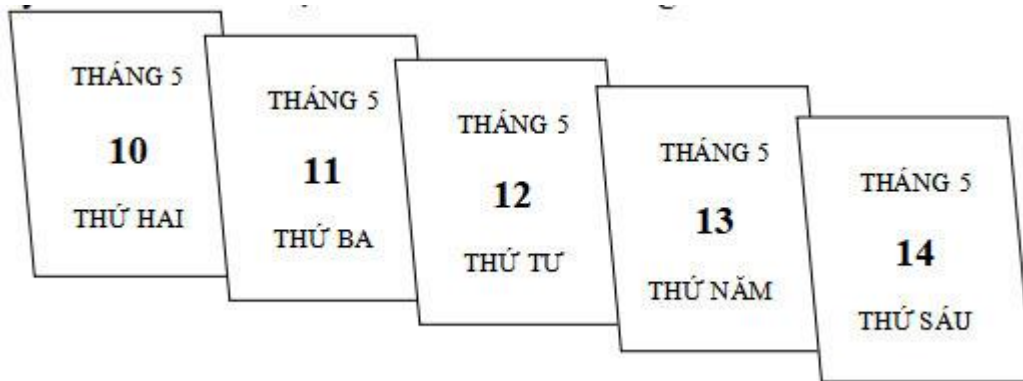
Trả lời : Nhà Lan  $\square$  12 con vịt

**Câu 7:**(M 1 - 1điểm) Đặt tính rồi tính

Mỗi phép tính đúng ghi 0,5 điểm.

$99 - 3$	$89 - 56$	$5 + 33$	$43 + 34$
$99$	$89$	$5$	$43$
$- 3$	$-56$	$+33$	$+34$
$\overline{96}$	$\overline{33}$	$\overline{38}$	$\overline{77}$

**Câu 8:** (M2- 1 điểm) Em hãy nhìn vào các tờ lịch và điền vào chỗ trống:



Nếu hôm nay là thứ năm ngày 13 tháng 5 thì:

Ngày hôm qua là thứ tư ngày 12 tháng 5

Ngày mai là thứ sáu ngày 14 tháng 5

**Câu 9:** (M3 -1 điểm) Điền dấu <, >, = vào ô trống:

$$32 + 12 \quad \boxed{>} \quad 13 + 24 \quad 3 + 12 \quad \boxed{<} \quad 39 - 14$$

$$99 - 2 \quad \boxed{>} \quad 44 + 43 \quad 78 - 34 \quad \boxed{=} \quad 23 + 21$$

**Câu 10:** ( M3 – 1 điểm ) Viết số thích hợp vào chỗ chấm:

Tuổi của ông là số lớn nhất có 2 chữ số, bà ít hơn ông 3 tuổi.

Tuổi ông là 99 tuổi.

Tuổi bà là: 96 tuổi

*Bình Thuận, ngày 11 tháng 5 năm 2024.*  
**CHUYÊN MÔN**                      **HIỆU TRƯỞNG**

GIÁO VIÊN RA ĐỀ

Đào Thị Hải

Nguyễn Hữu Trãi

**Nguyễn Văn Khang**

Nguyễn Thị Thu Hương

Trần Thị Thoan

